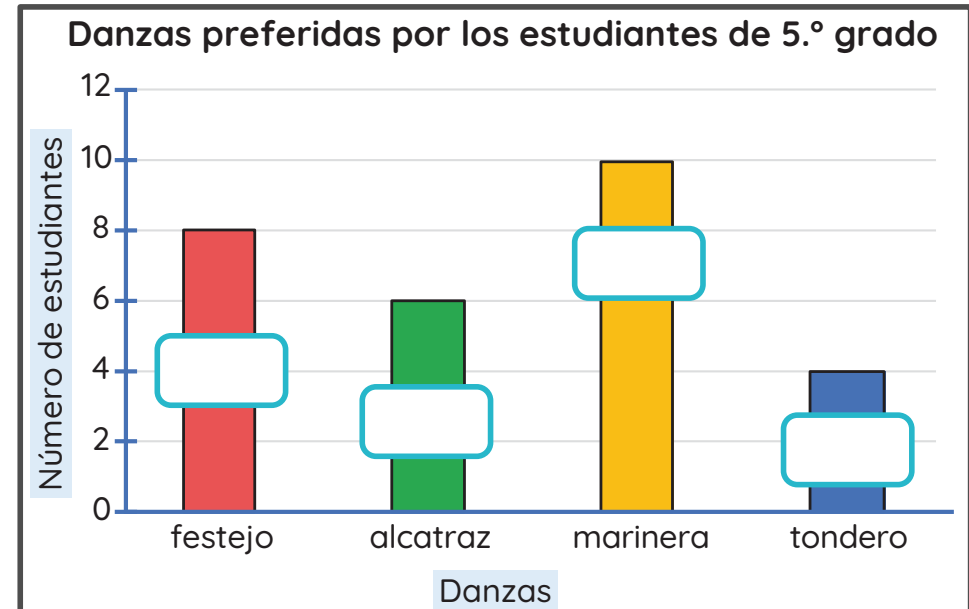




Un colegio organiza el festival de danzas folclóricas para difundir el arte peruano. Los estudiantes de 5.º grado realizan una encuesta para decidir qué danza de la costa bailarían.

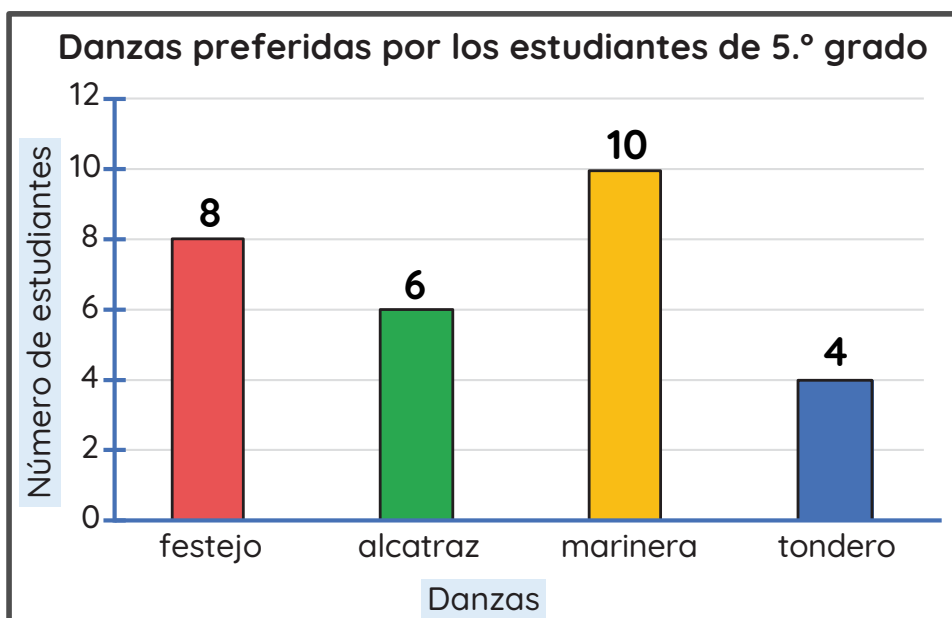
Completa los datos de la tabla y del gráfico de barras.

Danza	Conteo	Frecuencia
festejo	IIII III	<input type="text"/>
alcatraz	IIII I	<input type="text"/>
marinera	IIII IIII	<input type="text"/>
tondero	IIII	<input type="text"/>
Total de encuestados		<input type="text"/>



Un colegio organiza el festival de danzas folclóricas para difundir el arte peruano. Los estudiantes de 5.º grado realizan una encuesta para decidir qué danza de la costa bailarían.

¿Qué danza tiene mayor preferencia en los estudiantes?



festejo

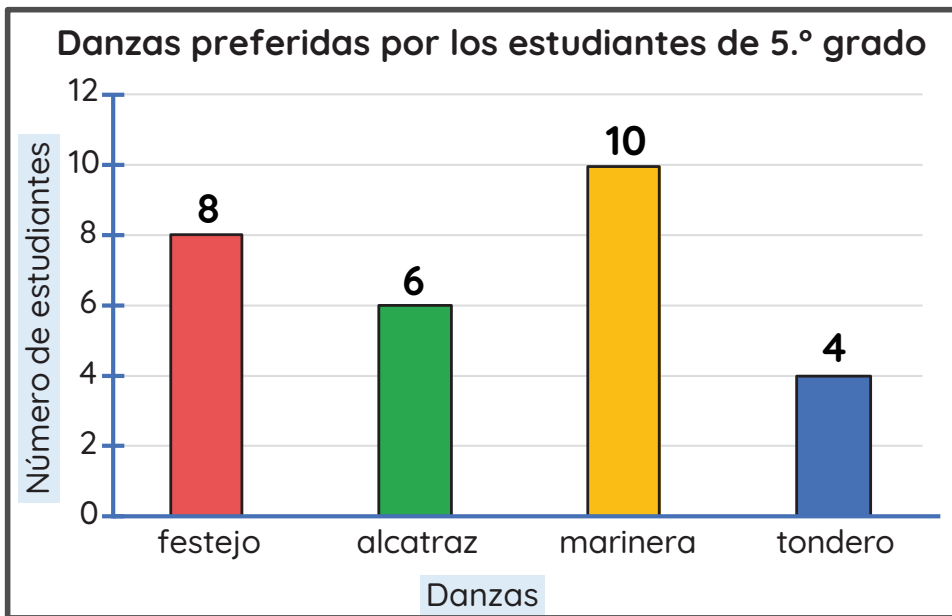
alcatraz

marinera

tondero

Un colegio organiza el festival de danzas folclóricas para difundir el arte peruano. Los estudiantes de 5.º grado realizan una encuesta para decidir qué danza de la costa bailarían.

¿Qué danza tiene menor preferencia en los estudiantes?



festejo

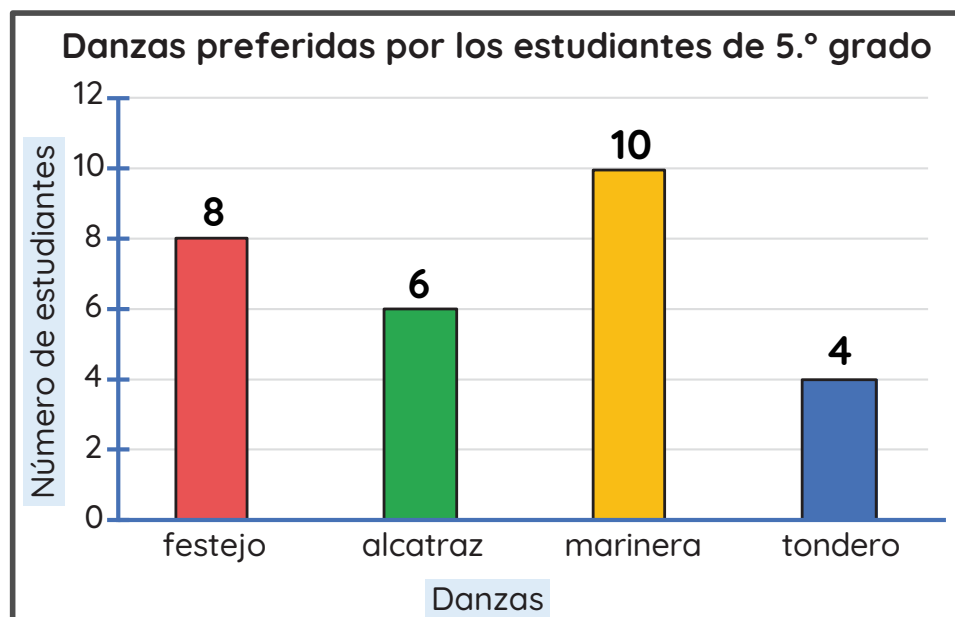
alcatraz

marinera

tondero

Un colegio organiza el festival de danzas folclóricas para difundir el arte peruano. Los estudiantes de 5.º grado realizan una encuesta para decidir qué danza de la costa bailarán.

En base a la información del gráfico de barras, elige la alternativa correcta.



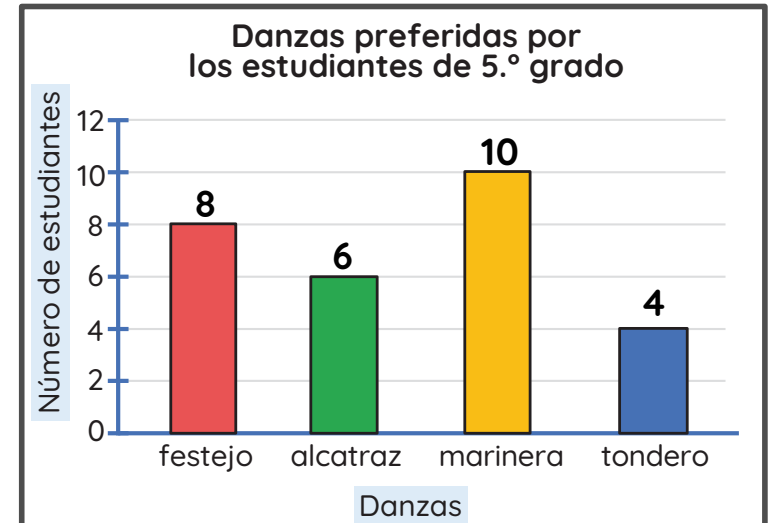
Hay 4 estudiantes más que prefieren el festejo que el alcatraz.

Hay 6 estudiantes más que prefieren la marinera que el tondero.

Hay 3 estudiantes más que prefieren el alcatraz que el tondero.

Un colegio organiza el festival de danzas folclóricas para difundir el arte peruano. Los estudiantes de 5.º grado realizan una encuesta para decidir qué danza de la costa bailarán.

Escribe V si es verdadero o F si es falso.



El total de estudiantes encuestados fue 27.

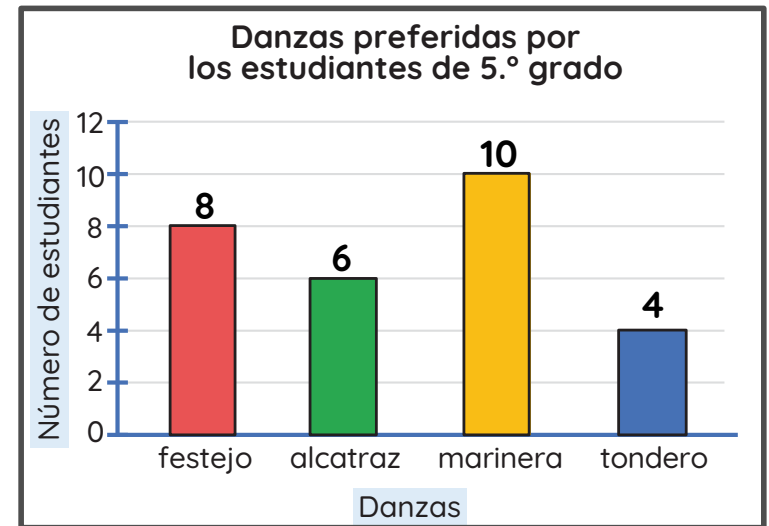
Hay 5 estudiantes más que prefieren el festejo que el tondero.

Hay 6 estudiantes más que prefieren la marinera que el tondero.

Hay 4 estudiantes más que prefieren la marinera que el alcatraz.

Un colegio organiza el festival de danzas folclóricas para difundir el arte peruano. Los estudiantes de 5.º grado realizan una encuesta para decidir qué danza de la costa bailarán.

Si no fuera posible bailar marinera, ¿cuál es la segunda danza con mayor preferencia? ¿Por qué?



Festejo, porque es la danza con igual cantidad de preferencia que la marinera.

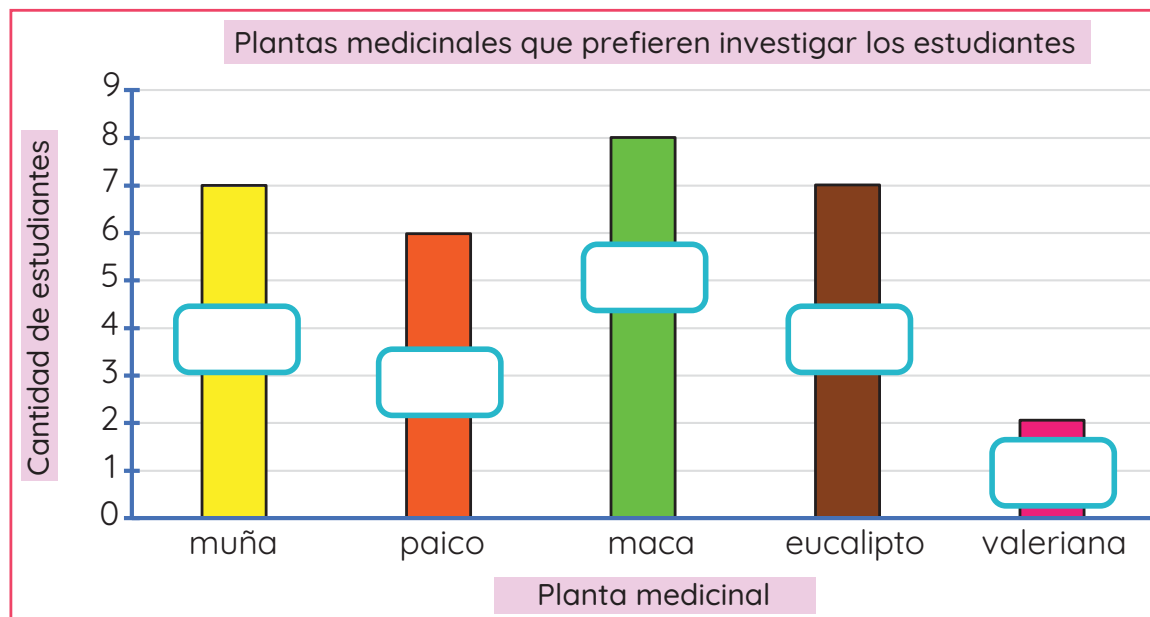
Festejo, porque es la danza que tiene la misma preferencia que la marinera.

Alcatraz, porque tiene 4 votos menos que la marinera.

La profesora Rita y sus estudiantes investigarán sobre las propiedades de las plantas medicinales existentes en nuestro país. Ellos votan la planta medicinal que prefieren investigar.

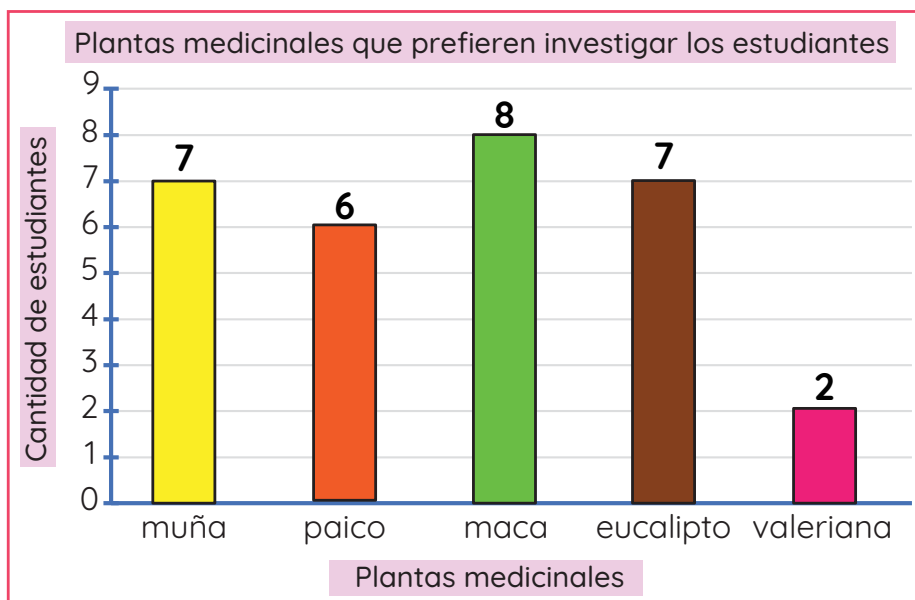
Completa los datos de la tabla y del gráfico de barras.

Planta medicinal	Conteo	Frecuencia absoluta (cantidad)
muña	III II	<input type="text"/>
paico	III I	<input type="text"/>
maca	III III	<input type="text"/>
eucalipto	III II	<input type="text"/>
valeriana	II	<input type="text"/>
Total		<input type="text"/>



La profesora Rita y sus estudiantes investigarán sobre las propiedades de las plantas medicinales existentes en nuestro país. Ellos votan por la planta medicinal que prefieren investigar.

¿Qué planta medicinal cuenta con la mayor preferencia de los estudiantes?



muña

paico

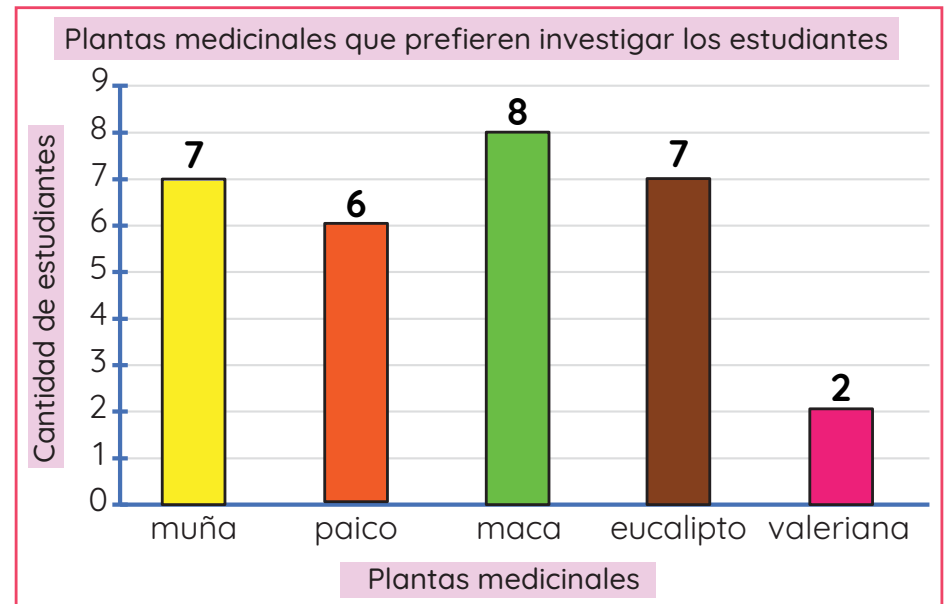
eucalipto

maca

valeriana

La profesora Rita y sus estudiantes investigarán sobre las propiedades de las plantas medicinales existentes en nuestro país. Ellos votan por la planta medicinal que prefieren investigar.

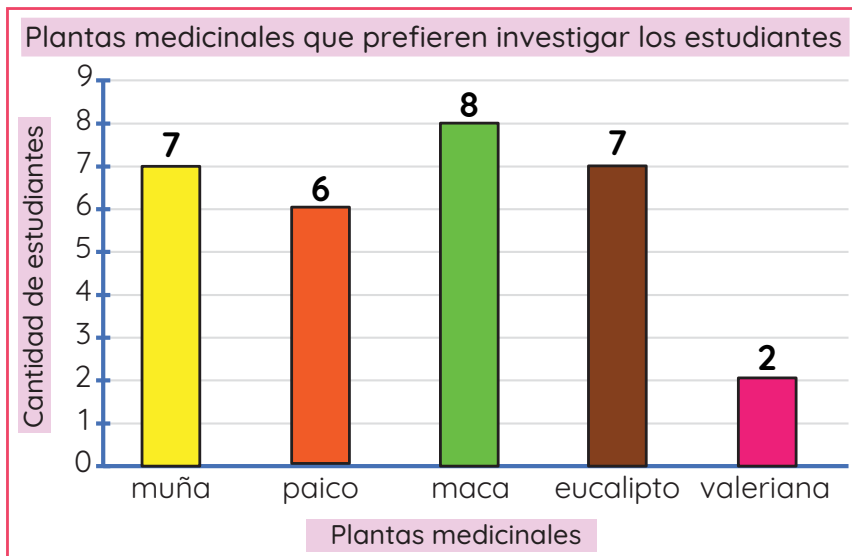
¿Qué planta medicinal prefieren investigar menos estudiantes?



La es la planta que prefieren investigar menos estudiantes.

La profesora Rita y sus estudiantes investigarán sobre las propiedades de las plantas medicinales existentes en nuestro país. Ellos votan por la planta medicinal que prefieren investigar.

¿Qué plantas medicinales tienen igual preferencia entre los estudiantes?



muña y valeriana

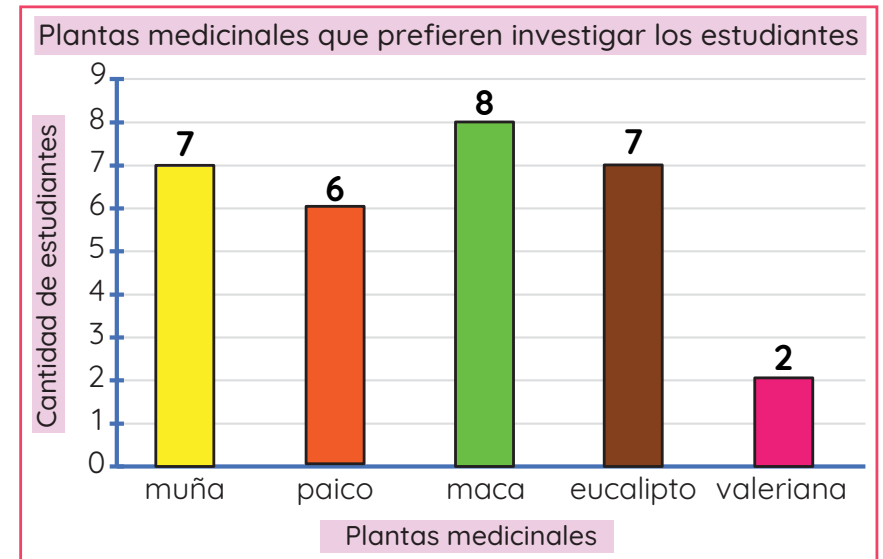
muña y eucalipto

paico y maca

eucalipto y maca

La profesora Rita y sus estudiantes investigarán sobre las propiedades de las plantas medicinales existentes en nuestro país. Ellos votan por la planta medicinal que prefieren investigar.

En base a la información del gráfico de barras, elige la alternativa correcta.



Hay 3 estudiantes más que prefieren el eucalipto que la maca.

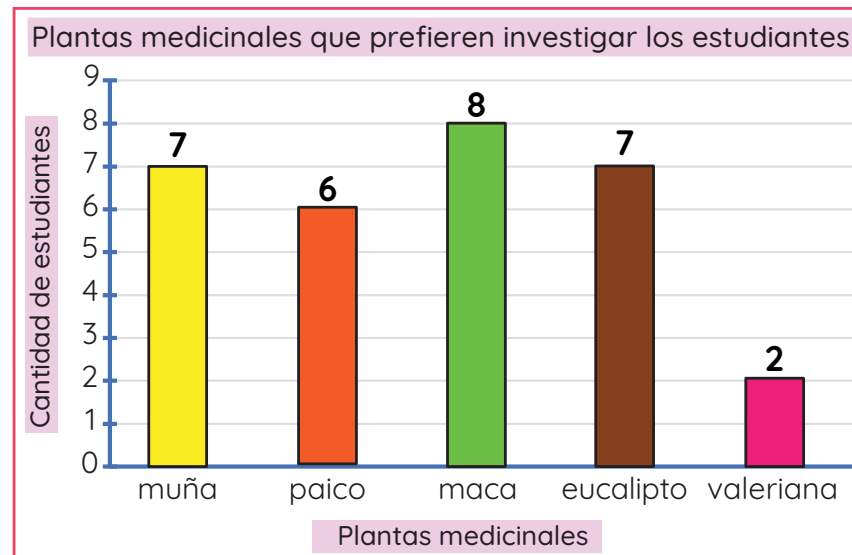
Hay 6 estudiantes más que prefieren la muña que la valeriana.

Hay 2 estudiantes más que prefieren la maca que el paico.

La profesora Rita y sus estudiantes investigarán sobre las propiedades de las plantas medicinales existentes en nuestro país. Ellos votan por la planta medicinal que prefieren investigar.

Ronald dice: “La valeriana es la planta que tiene mayor preferencia”.

¿Estás de acuerdo con Ronald? ¿Por qué?



Sí, porque la valeriana obtuvo 8 votos de preferencia.

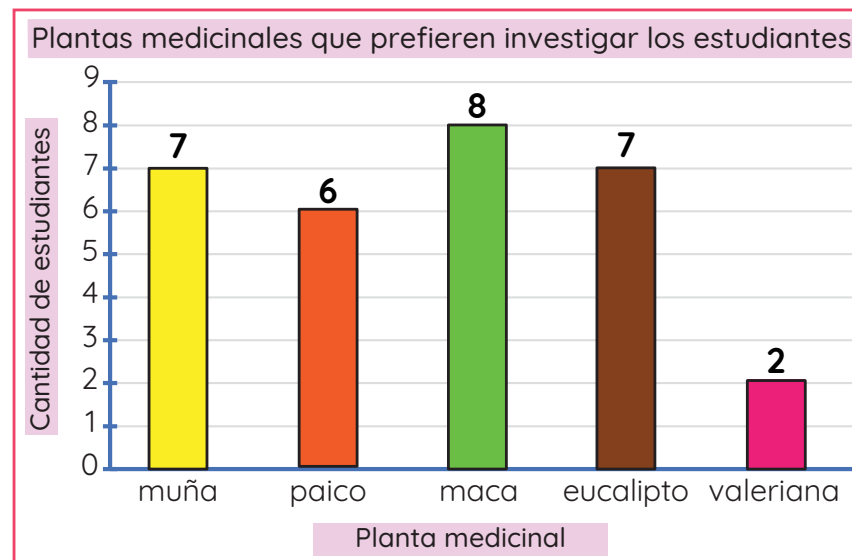
No, porque la valeriana es una planta con pocas propiedades medicinales.

Sí, porque la valeriana es la planta que obtuvo 7 votos.

No, porque la valeriana es la planta

La profesora Rita y sus estudiantes investigarán sobre las propiedades de las plantas medicinales existentes en nuestro país. Ellos votan por la planta medicinal que prefieren investigar.

Escribe V si es verdadero o F si es falso.



Hay 5 estudiantes más que prefieren investigar la muña que la valeriana.

El gráfico se elaboró con las respuestas de 28 estudiantes.

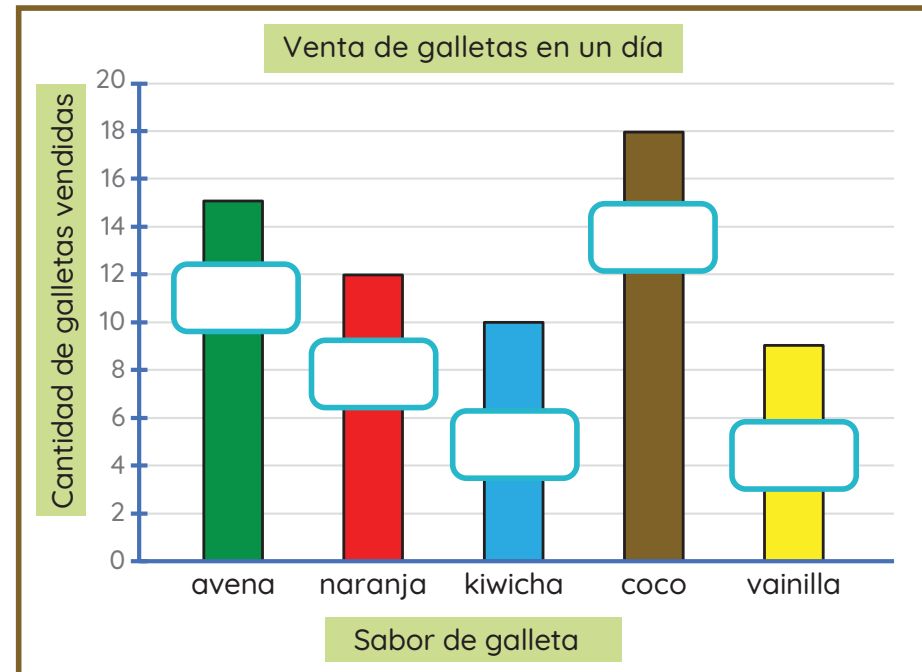
Z

.

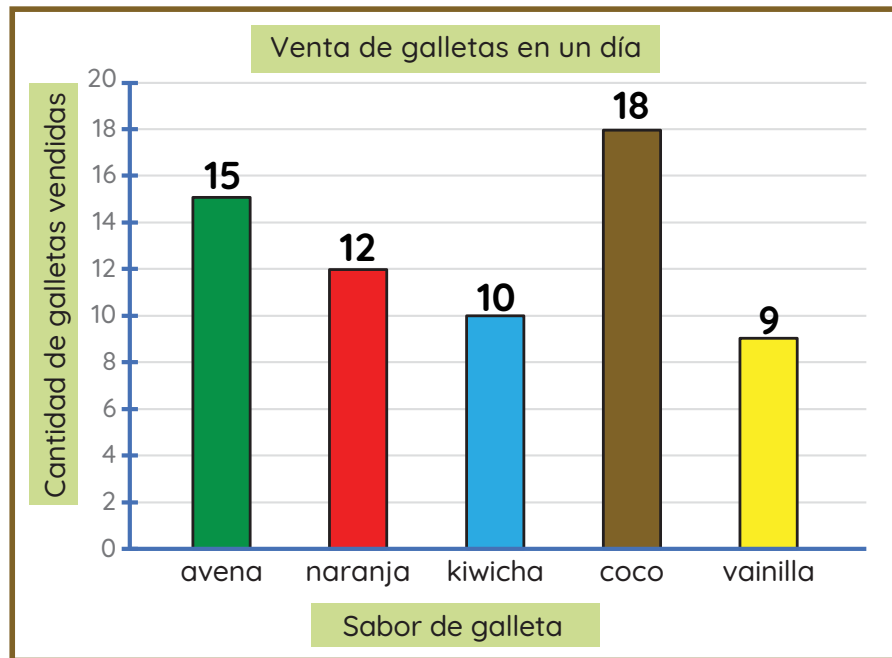
Ricardo prepara y vende galletas. Él quiere saber qué sabor de galleta prefieren sus clientes. Por eso, anotó las ventas de un día en una tabla.

Completa los datos de la tabla y del gráfico de barras.

Sabor de galleta	Conteo	Frecuencia absoluta (cantidad)
kiwicha	III III	<input type="text"/>
naranja	III III II	<input type="text"/>
avena	III III \	<input type="text"/>
coco	III III III III	<input type="text"/>
vainilla	III III	<input type="text"/>
Total		<input type="text"/>



Ricardo prepara y vende galletas. Él quiere saber qué sabor de galleta prefieren sus clientes. Por eso, representa la venta de un día en un gráfico.



¿Qué sabor fue el más vendido?

avena

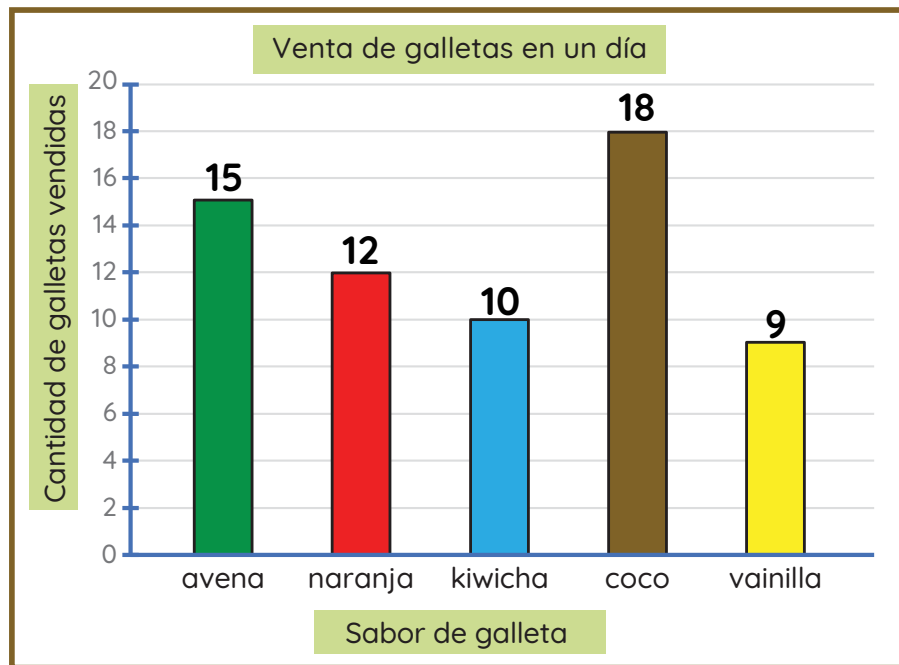
coco

naranja

kiwicha

vainilla

Ricardo prepara y vende galletas. Él quiere saber qué sabor de galleta prefieren sus clientes. Por eso, representa la venta de un día en un gráfico.



¿Qué sabor fue el menos vendido?

avena

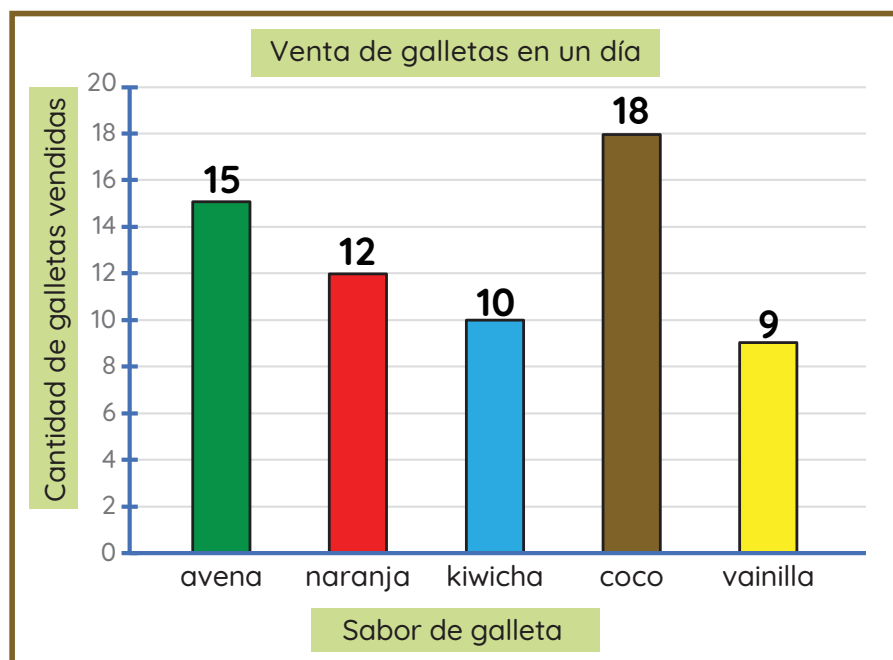
coco

naranja

kiwicha

vainilla

Ricardo prepara y vende galletas. Él quiere saber qué sabor de galleta prefieren sus clientes. Por eso, representa la venta de un día en un gráfico.



¿Cuál fue el total de galletas que vendió Ricardo en un día?

55 galletas

64 galletas

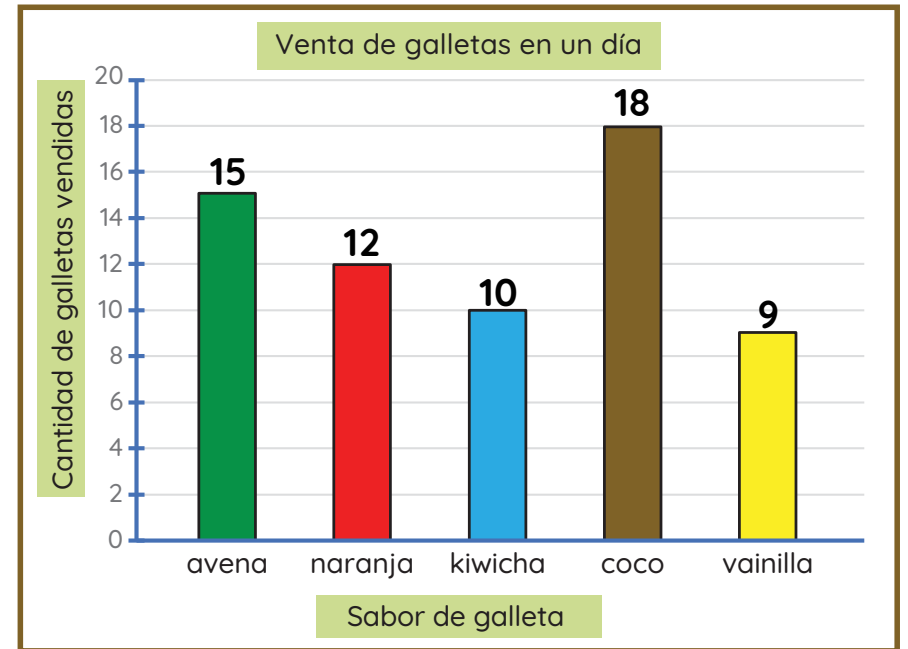
62 galletas

54 galletas

Ricardo prepara y vende galletas. Él quiere saber qué sabor de galleta prefieren sus clientes. Por eso, representa la venta de un día en un gráfico.

¿Qué sabor de galleta representa la moda? ¿Por qué?

El dato que presenta la mayor frecuencia es conocido como “moda”.



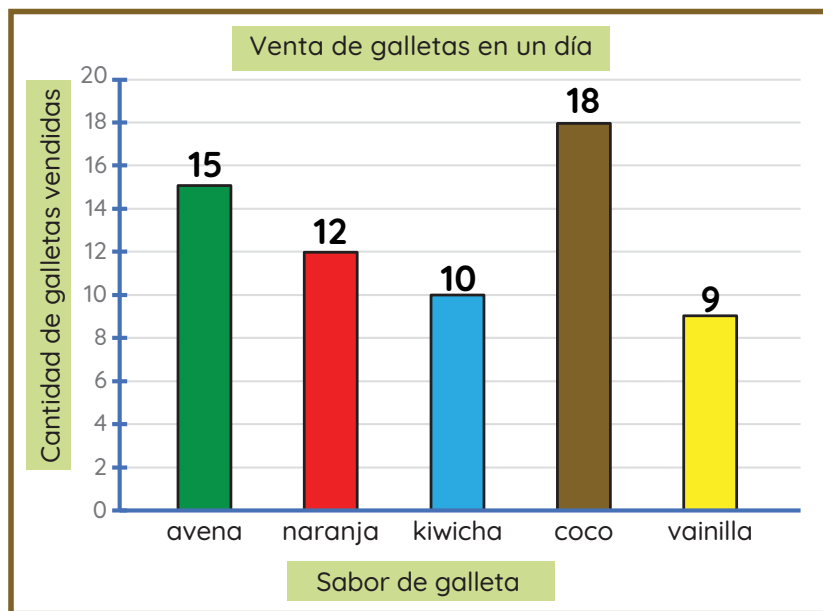
La galleta de vainilla, porque fue la menos vendida.

Todos los sabores, porque están de moda.

La galleta de avena, porque se vendieron 15 unidades.

La galleta de coco, porque fue la más vendida.

Ricardo prepara y vende galletas. Él quiere saber qué sabor de galleta prefieren sus clientes. Por eso, representa la venta de un día en un gráfico.



Elige la afirmación correcta.

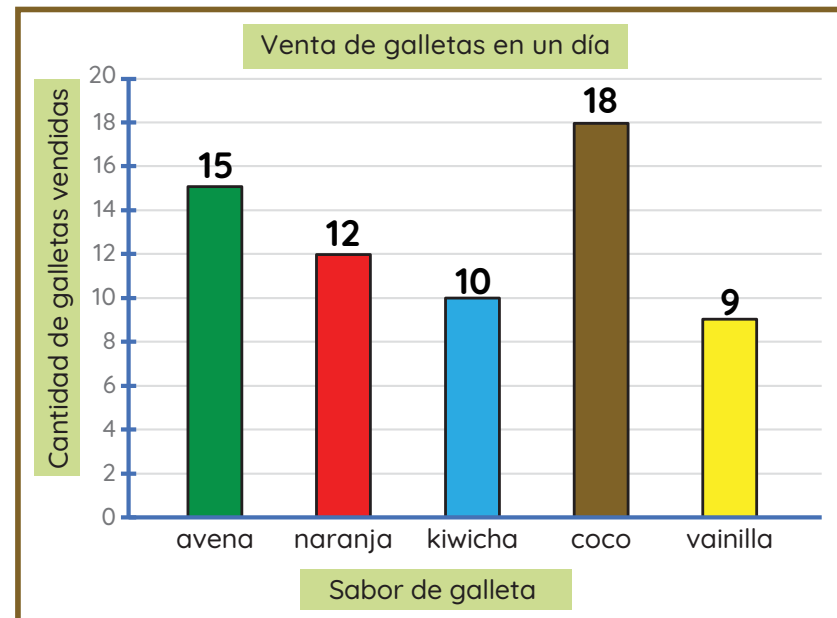
Se vendieron 3 galletas de naranja menos que de avena.

Se vendieron 7 galletas de vainilla menos que de avena.

Se vendieron 4 galletas de avena menos que de coco.

Ricardo prepara y vende galletas. Luego de ver los resultados de la venta de galletas, decide preparar más galletas de .

¿Estás de acuerdo con su decisión? ¿Por qué?



No, porque las galletas de coco fueron las más vendidas.

Sí, porque las galletas de kiwicha fueron las más vendidas.

No, porque las galletas de vainilla fueron las preferidas.

Sí, porque las galletas de coco fueron las más vendidas.

La Municipalidad de Caraz ofrecerá diversos talleres para niños y niñas. Se realizó una encuesta para conocer sus preferencias. Estos fueron los resultados.

niño

niña

pintura	danza	pintura	música
música	pintura	música	pintura
teatro	música	pintura	danza
música	teatro	música	teatro
pintura	pintura	pintura	danza
música	danza	danza	pintura
danza	música	teatro	teatro
pintura	teatro	danza	música
música	pintura	música	pintura
pintura	música	pintura	danza

¿Cuántos niños y niñas respondieron la encuesta?

35

40

no se sabe

La Municipalidad de Caraz ofrecerá diversos talleres para niños y niñas. Se realizó una encuesta para conocer sus preferencias. Estos fueron los resultados.

Completa la tabla de frecuencia con los datos obtenidos.

niño

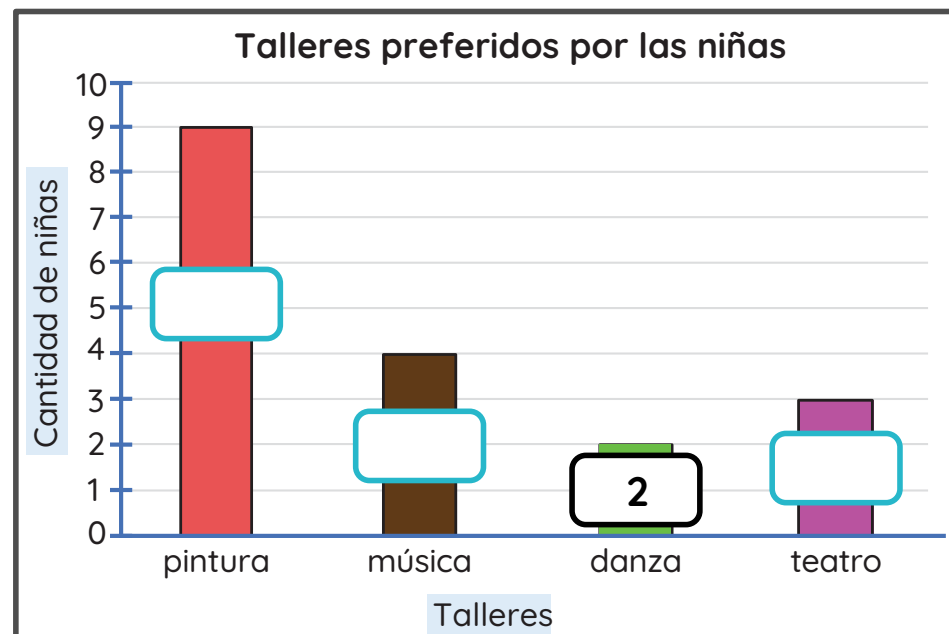
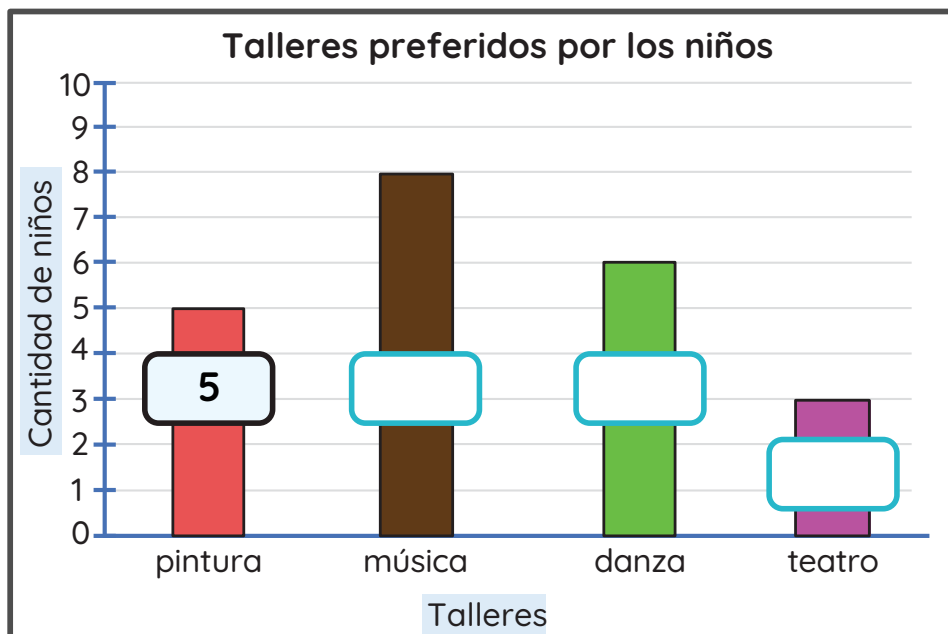
niña

pintura	danza	pintura	música
música	pintura	música	pintura
teatro	música	pintura	danza
música	teatro	música	teatro
pintura	pintura	pintura	danza
música	danza	danza	pintura
danza	música	teatro	teatro
pintura	teatro	danza	música
música	pintura	música	pintura
pintura	música	pintura	danza

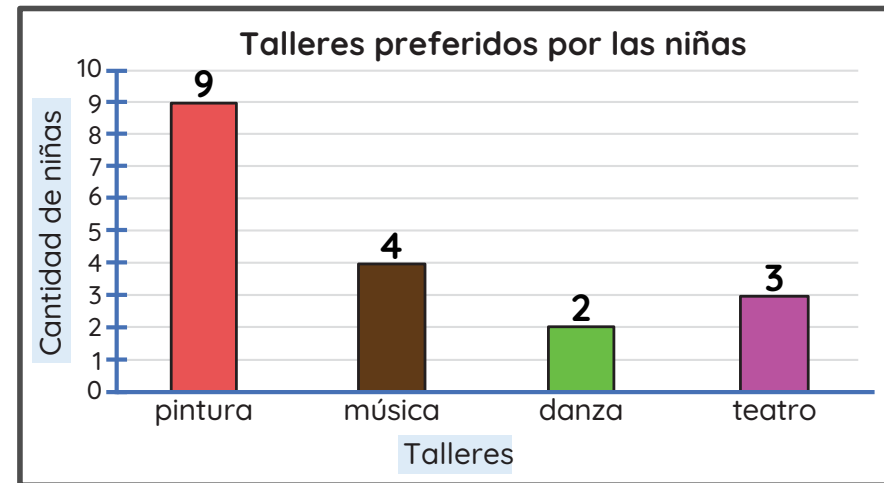
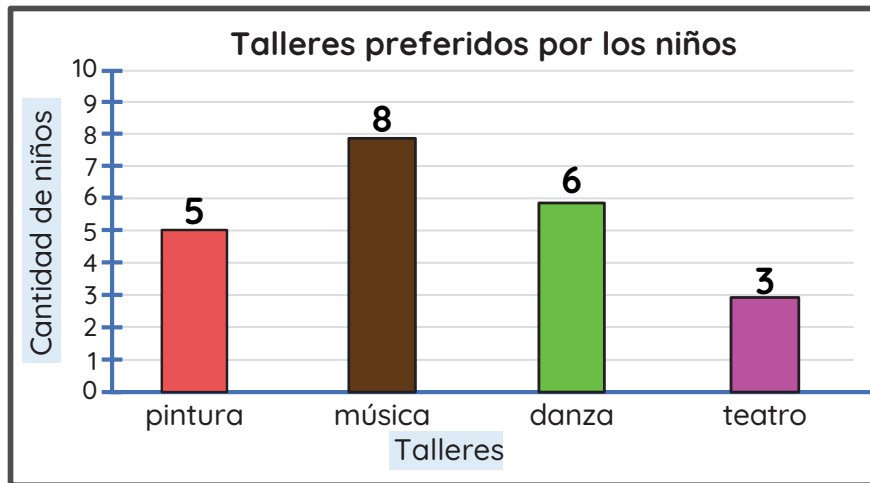
Taller	Frecuencia	
	niños	niñas
pintura	5	
música		4
danza		
teatro		
Total		

La Municipalidad de Caraz ofrecerá diversos talleres para niños y niñas. Se realizó una encuesta para conocer sus preferencias. Estos fueron los resultados.

Completa los datos que faltan en los gráficos de barras.



La Municipalidad de Caraz ofrecerá diversos talleres para niños y niñas. Se realizó una encuesta para conocer sus preferencias. Estos fueron los resultados.



¿Qué taller tiene mayor preferencia en los niños?

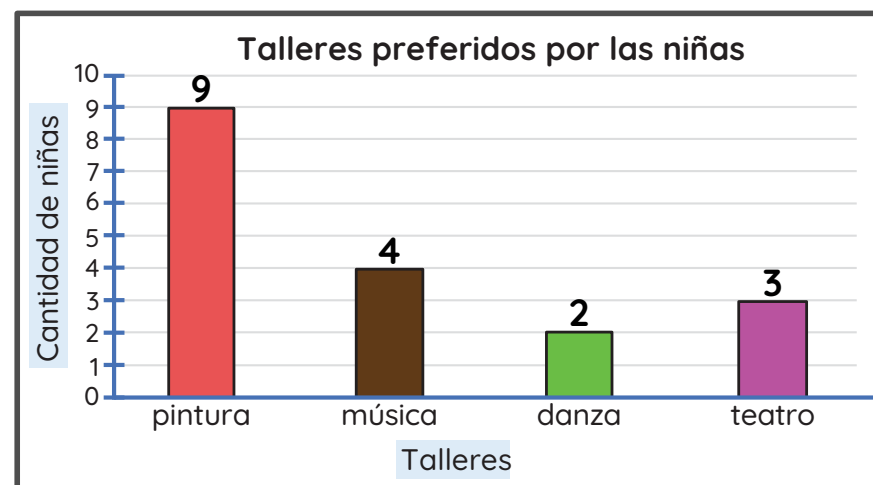
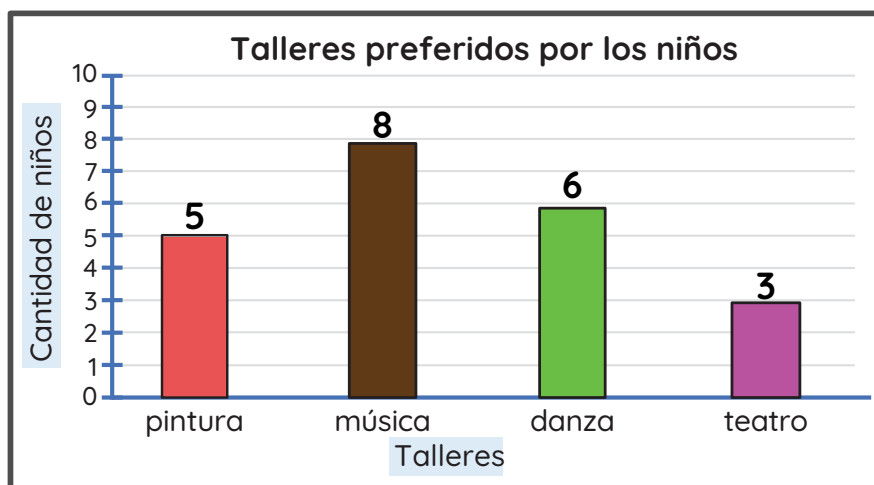
teatro

música

danza

pintura

La Municipalidad de Caraz ofrecerá diversos talleres para niños y niñas. Se realizó una encuesta para conocer sus preferencias. Estos fueron los resultados.



¿Qué taller tiene mayor preferencia en las niñas?

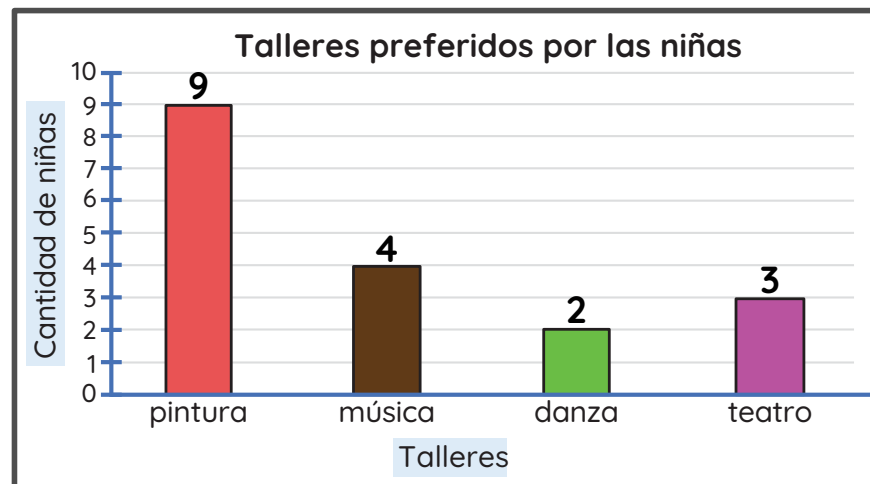
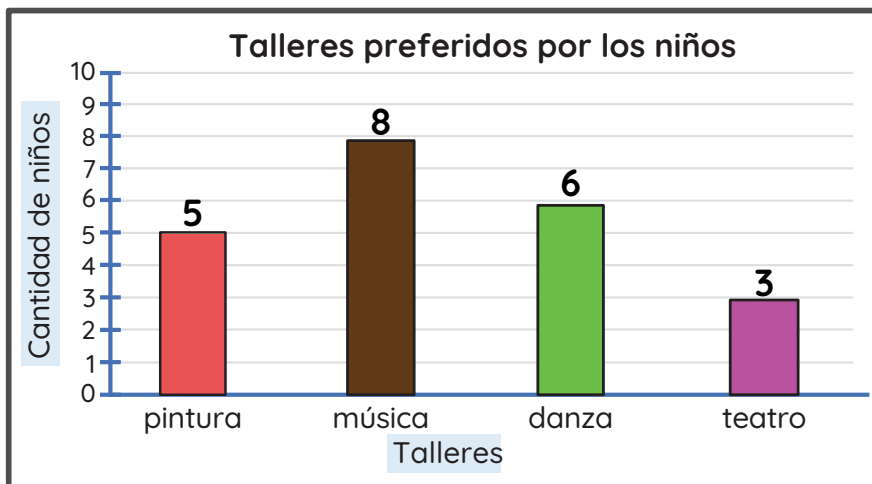
teatro

música

danza

pintura

La Municipalidad de Caraz ofrecerá diversos talleres para niños y niñas. Se realizó una encuesta para conocer sus preferencias. Estos fueron los resultados.



¿Qué taller prefieren por igual los niños y las niñas?

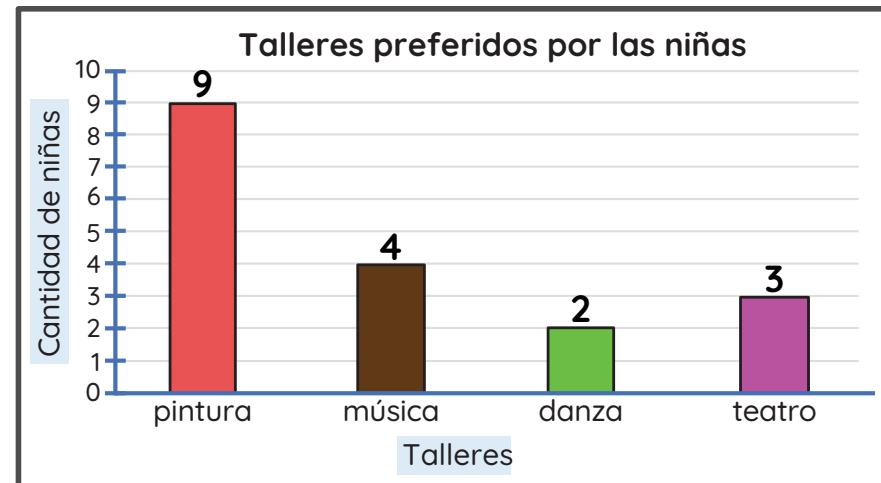
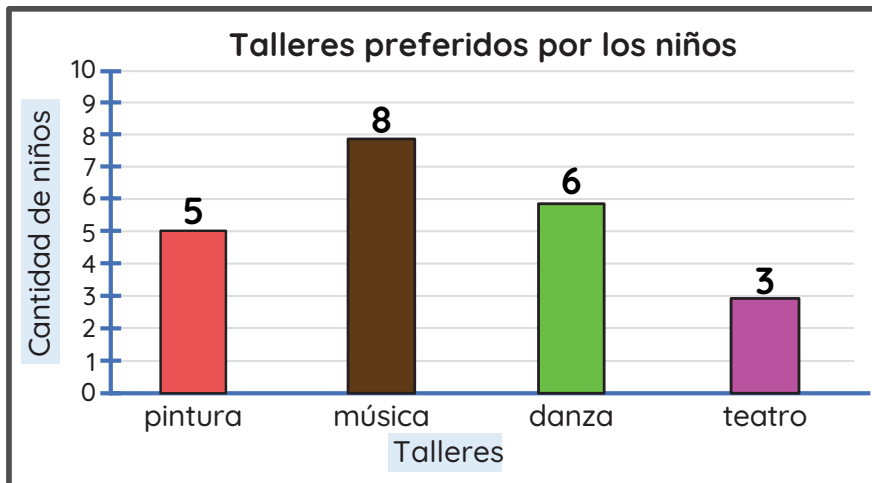
teatro

música

danza

pintura

La Municipalidad de Caraz ofrecerá diversos talleres para niños y niñas. Se realizó una encuesta para conocer sus preferencias. Estos fueron los resultados.



¿Cuántos niños y niñas en total prefieren música?

10

13

12

11

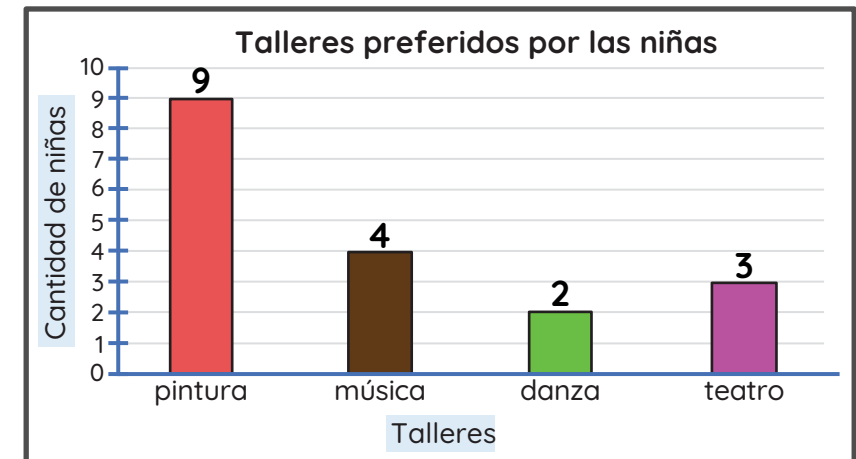
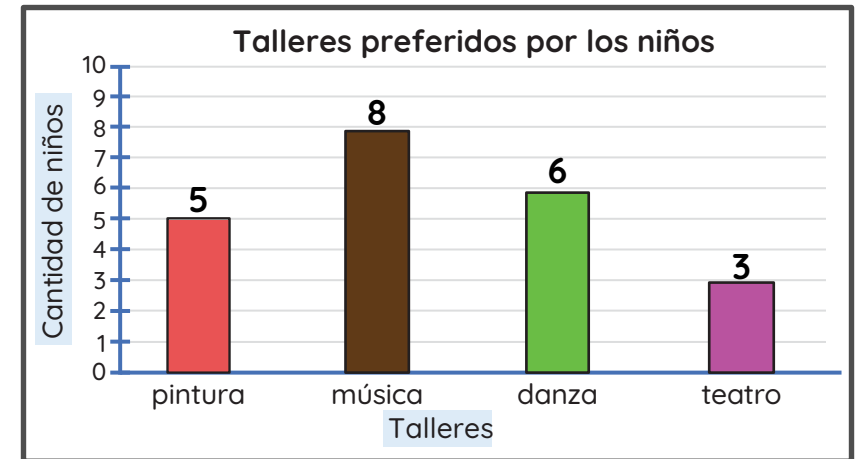
La Municipalidad de Caraz ofrecerá diversos talleres para niños y niñas. Se realizó una encuesta para conocer sus preferencias. Estos fueron los resultados.

Según los resultados, elige la afirmación correcta.

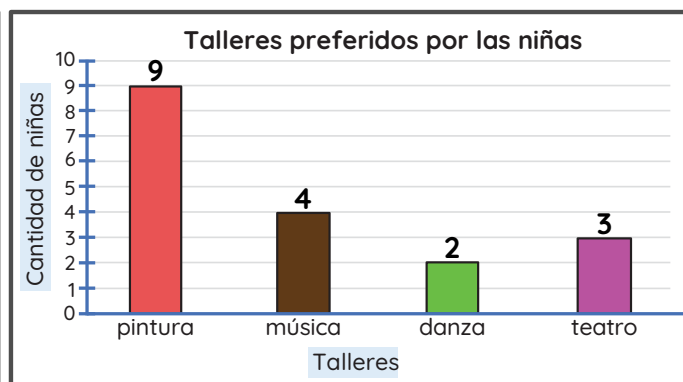
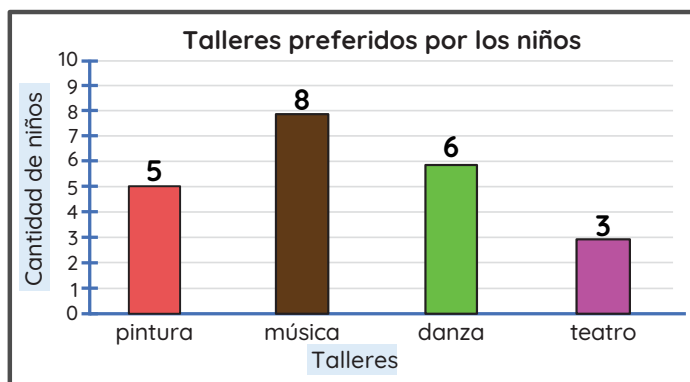
Hay 1 niña más que prefiere música que danza.

Hay 3 niños más que prefieren danza que teatro.

Hay 6 niñas más que prefieren pintura que música.



La Municipalidad de Caraz ofrecerá diversos talleres para niños y niñas. Se realizó una encuesta para conocer sus preferencias. Estos fueron los resultados.



Según los resultados, es necesario aumentar el interés en el taller de teatro. ¿Estás de acuerdo? ¿Por qué?

No, porque el teatro ya tiene la mayor preferencia.

Sí, porque el teatro tuvo poca preferencia entre niños y niñas.

No, porque el teatro obtuvo 8 votos de preferencia.

Sí, porque el teatro tuvo más votos que el taller de pintura.

La Municipalidad de Caraz ofrecerá diversos talleres para niños y niñas. Se realizó una encuesta para conocer sus preferencias. Estos fueron los resultados.

Talleres preferidos por niños y niñas

Taller	Frecuencia		Total
	niños	niñas	
pintura	5	9	14
música	8	4	12
danza	6	2	8
teatro	3	3	6

¿Cuáles son los tres talleres artísticos con mayor preferencia entre niños y niñas?

- ✓ música
- ✓ danza
- ✓ teatro

- ✓ pintura
- ✓ música
- ✓ danza

- ✓ pintura
- ✓ teatro
- ✓ danza

- ✓ música
- ✓ teatro
- ✓ pintura